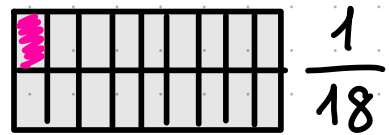
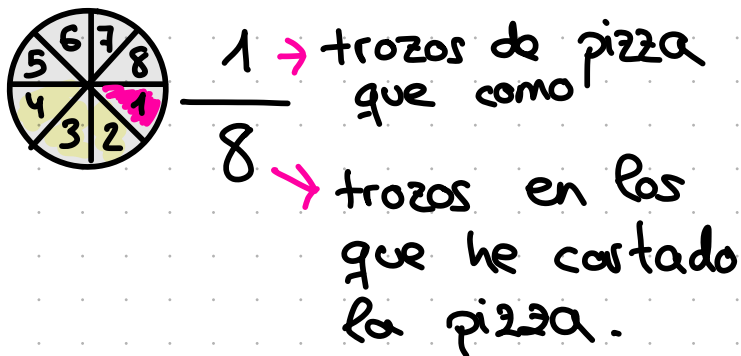


Fraciones: qué SON

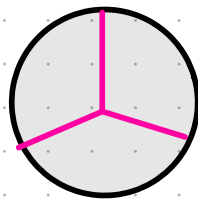
Una parte de una unidad.



$\frac{3}{8}$ → 3 trozos se ha comido
8 → trozos en los que he partido TODA la pizza

Partes de la fracción

$\frac{1}{3}$ → numerador
3 → denominador



¿Cómo se leen?

$\frac{1}{2}$ un medio 

$\frac{1}{3}$ un tercio 

$\frac{1}{4}$ un cuarto 

Hasta el 50

$\frac{2}{5}$ dos quintas

$\frac{3}{6}$ ← tres sextas

$\frac{2}{7}$ ← dos séptimas

$\frac{5}{8}$ ← cinco octavas

$\frac{7}{9}$ siete novenas

$\frac{5}{10}$ cinco décimos.

Denominador mayor de 10

$$\frac{250}{100}$$

$$\frac{2}{15} \quad \text{dos quinceavos}$$

$$\frac{3}{27} \quad \text{tres veintisieteavos}$$

$$\frac{15}{48} \quad \text{quince cuarenta y
ochoavos}$$

$$\frac{1}{100} \quad \text{una centésima}$$

$$\frac{1}{1000} \quad \text{una milésima}$$

Cómo se dibujan

